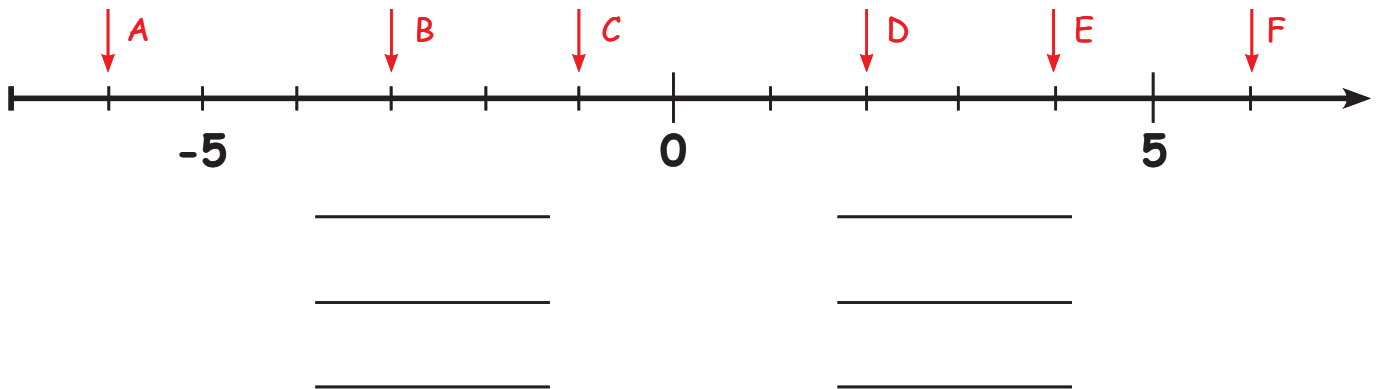


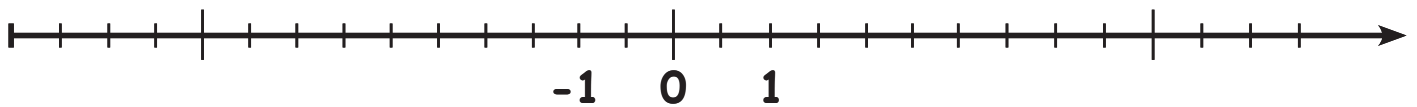
## Compter sur une échelle de point



Lis les chiffres marqués et inscris-les sur les lignes !



Marques les chiffres donnés sur l'échelle des points !



A     -1,5    


D     0,5    

B     6,5    

E     2,5    

C     -5,5    

F     -3,5    



Répartis les points donnés sur l'échelle ci-dessous !



A     -9,5    

C     -8,5    

E     0,5    

B     2,5    

D     -6    

F     -7,5    



A     -4    

C     6    

E     4    

B     2    

D     -1    

F     -2