




Le périmètre1. Qu'est-ce qu'un périmètre ?

- a) Mesure le pourtour de la tête et du ventre de ton copain.
 b) Dessine le pourtour des différentes figures ci-dessous.
 Ce pourtour, en géométrie, est appelé **périmètre** !

2. Un paysan veut clôturer le champs dans lequel il met ses animaux.

Combien de mètres de grillage lui faut-il ?



Il lui faudra _____ mètres de grillage.

3. Calcul d'un périmètre :

Calcule le périmètre des différents rectangles ci-dessous.

	rectangle 1	rectangle 2	rectangle 3	rectangle 4	rectangle 5	rectangle 6
longueur (L)	65 m	113	205	147	98	136
largeur (l)	23 m	95	164	58	61	84
périmètre						