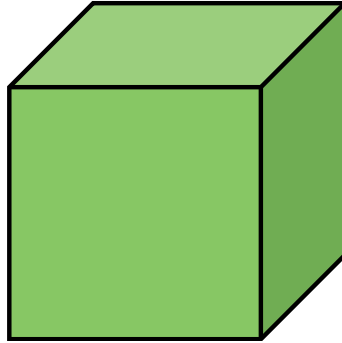
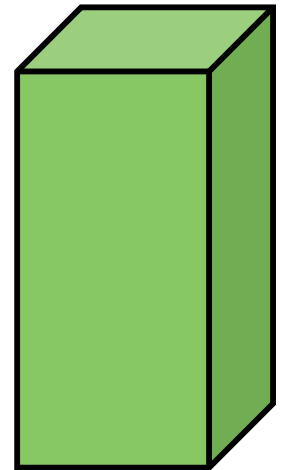



Les formes géométriques

Nomme les différentes formes géométriques :

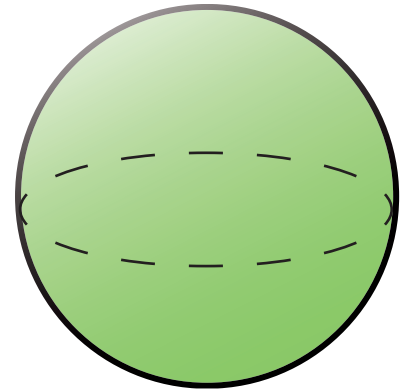













sphère	cube	pyramide
parallélépipède		cône
	cylindre	

Regarde bien les différentes formes et donne les différences et les similitudes des formes ci-dessous !

	Similitudes	Différences
cube et parallélépipède		
cylindre et cône		
pyramide et cône		

Quelles formes ont été utilisées ? (plusieurs possibilités de réponses !)





Réponds aux différentes questions sur la parallélépipède rectangle :

Combien de sommets a un parallélépipède ? _____

Combien d'arêtes à un parallélépipède ? _____

Combien de surfaces sont superposables ? _____

