

Les questions d'argent

Euro und Cent




a) Lis et écris correctement !

1,99 € ou _____	0,25 € ou _____	12 € 36 c ou _____	6,89 € ou _____
0 € 54 c ou _____	31,72 € ou _____	4,03 € ou _____	63 € 1 c ou _____
72,10 € ou _____	99 € 12 c ou _____	59 € 91 c ou _____	15,03 € ou _____


b) Lorsque tu fais des courses, on te rend la monnaie. Calcule combien la vendeuse doit te rendre. Puis coloris les cercles. Fais attention au nombre de cercles.

(1 Cent = **jaune**, 2 Cent = **rouge**, 5 Cent = **vert**, 10 Cent = **bleu**, 20 Cent = **brun**, 50 Cent = **gris**)


1 € - 63 c = _____ - Monnaie :



1 € - 41 c = _____ - Monnaie :



1 € - 84 c = _____ - Monnaie :



1 € - 22 c = _____ - Monnaie :



1 € - 13 c = _____ - Monnaie :

