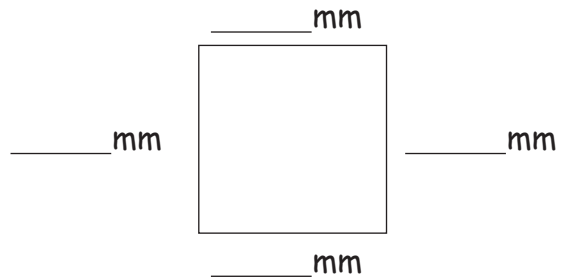
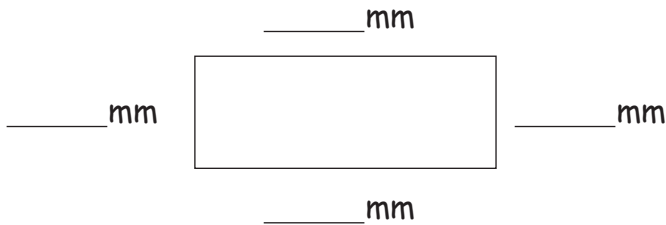


Mesurer les carrés



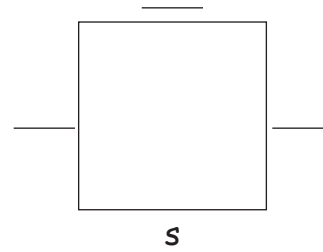
1. Le carré :

- Mesure les côtés et inscris les résultats.
- Indique les angles droits.
- Lequel de ces 2 dessins est un carré ?



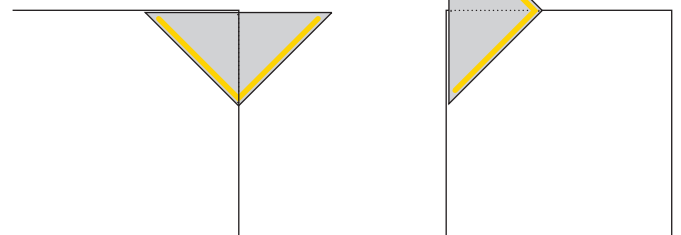

2. Côtés parallèles :

Les côtés opposés d'un carré sont parallèles 2 à 2. Indique-les en marquant un „s”.



3. Avec une équerre, dessine un carré. Reproduis-le de la même manière que l'exemple !

Attention : le carré de l'exemple n'est pas à la bonne dimension. $s = 30 \text{ mm}$



4. Termine les carrés ci-dessous :

