

Exercices pour les chiffres jusqu'à 20**1. Résouds les problèmes suivants :**

Sur une assiette se trouvent 9 petits gâteaux.

Papa en mange 4.

Combien de petits gâteaux reste-t-il ?



Marcel a économisé 6 €.

Papy lui rajoute 9 €.


Combien d'€ Marcel aura-t-il ?



David a 13 voitures miniature.

Pour son anniversaire, ses amis lui en offre encore 7 autres.


Combien en a-t-il au total ?



Chris joue avec 15 billes.

Malheureusement, elle en perd 4.


Combien de billes lui reste-t-il ?



Pour le dessert, Maman cuit 7 madeleines.

Comme il y a plus d'invités que prévu, elle doit en refaire 5 de plus.

Combien de madeleines Maman aura-t-elle cuites au total ?



16 voitures sont à l'arrêt au feu rouge.

Le feu devient vert mais seulement 7 voitures arrivent à passer.

Combien de voitures restent à l'arrêt au prochain passage du feu au rouge ?



Claudia a 19 €.

Elle achète pour 5 € de sucreries.

Combien d'€ lui reste-t-il ?

