

Einzahl - Mehrzahl

Tekenen in de vakjes

eine Biene

drei Bienen

eine Blume

vier Blumen

eine Eule

zwei Eulen

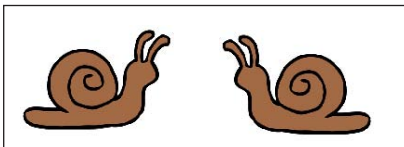
ein Käfer

drei Käfer

ein Schaf

zwei Schafe


Schrijf op hoeveel en welke dieren er in het vakje staan:




=====




=====




=====



=====



=====



=====