


Er wordt gemeten met een meetlat ...

Schat eerst en meet daarna met een meetlat na. Kruis het juiste antwoord aan!

1.

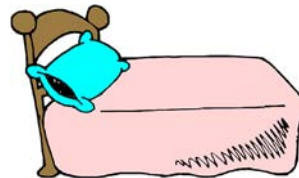

Hoe lang ben jij?

Ik ben groter dan 1 meter (m)
 kleiner dan 1 meter (m)



2.

Wat is langer dan 1 meter? Omcirkel de voorwerpen!



3.

Wat is korter dan 1 meter? Omcirkel de voorwerpen!



4.

Neem een meetlat en vergelijk. Kruis juist aan!



langer dan 1 m
 korter dan 1 m

langer dan 1 m
 korter dan 1 m

langer dan 1 m
 korter dan 1 m