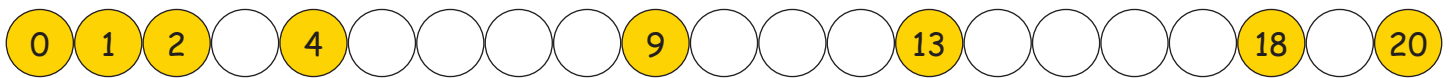


Getallenlijn tot 20

1. Omcirkel alleen de even getallen:


1	2	3	4	5	6	7	8	9	10
11	12	13	14	15	16	17	18	19	20

2. Vul de ontbrekende getallen in:



3. Steeds een beetje meer:

David stopt elke dag een euro meer in zijn portemonnee.




$10 + 1 = \square$

$10 + 2 = \square$

$10 + 3 = \square$

$10 + 4 = \square$

$10 + 5 = \square$



$10 + 6 = \square$

$10 + 7 = \square$

$10 + 8 = \square$

$10 + 9 = \square$

$10 + 10 = \square$

4. Omcirkel alleen de oneven getallen:

1	2	3	4	5	6	7	8	9	10
11	12	13	14	15	16	17	18	19	20