





















**Lengtes vergelijken en omzetten**

**1. Vergelijk de grootte van de dieren en vul < of > in:**

 8 m <input type="radio"/> 7 dm 	 190 cm <input type="radio"/> 6 dm 
 1 m 85 cm <input type="radio"/> 1 dm 7 cm 	 11 dm <input type="radio"/> 1 m 70 cm 
 20 cm <input type="radio"/> 19 dm 	 100 dm <input type="radio"/> 150 cm 
 40 cm <input type="radio"/> 1 m 4 dm 	 120 cm <input type="radio"/> 2 m 
 8 dm <input type="radio"/> 2 m 50 cm 	 30 dm <input type="radio"/> 10 cm 

**2. Maat-aanduidingen op het werk:**

De meubelmaker moet voor een verbouwing houten latten in de onderstaande lengtes afzagen. Opdat hij het makkelijker heeft, zet hij de maataanduidingen in cm om.

3 m 10 dm 4 cm = _____		6 dm 9 cm = _____
23 dm 5 cm = _____		2 m 1 dm 7 cm = _____
1 m 20 cm = _____		3 m 6 dm 4 cm = _____
2 m 5 dm 1 cm = _____		49 dm 5 cm = _____
7 dm 9 cm = _____		1 m 9 dm = _____
5 m 3 dm = _____		4 m 2 dm 8 cm = _____

**3. Omzetten:**

a.) Zet de volgende lengtes om in mm:

3 dm 4 cm 9 mm = _____	2 dm 7 cm 8 mm = _____	4 dm 8 cm 2 mm = _____
5 dm 2 cm 6 mm = _____	1 dm 3 cm 5 mm = _____	7 dm 9 cm 3 mm = _____

b.) Omzetten in cm:

5 m 8 dm 2 cm = _____	4 m 6 dm 3 cm = _____	2 m 5 dm 6 cm = _____
1 m 3 dm 7 cm = _____	73 dm 1 cm = _____	3 m 7 dm 8 cm = _____