


# SPAARVARKEN

Jan heeft van zijn zakgeld € 24 in zijn spaarpot gespaard.  
Nu wil van dit geld graag speelgoed kopen.

In een speelgoedwinkel, ziet hij veel geweldige aanbiedingen.  
Tel de twee stukken speelgoed bij elkaar op en beslis of Jan genoeg geld heeft om deze te kopen.



Kruis het juiste antwoord aan.



			ja	nee
Aanbieding 1	knuffeldier € 12	kleurpotloden € 11	X	
Aanbieding 2	waterpistool € 25	spelkaarten € 3		
Aanbieding 3	monopoly € 21	auto € 2		
Aanbieding 4	voetbal € 19	bal € 3		
Aanbieding 5	verhalenboek € 9	tennisballen € 10		
Aanbieding 6	puzzel € 15	lego € 14		



Ook Cornelia vindt een aantal spannende aanbiedingen in de speelgoedwinkel.  
Ze heeft € 34 gespaard. Welke aanbiedingen kan ze kopen? Kruis het juiste antwoord aan.



			ja	nee
Aanbieding 1	pop € 18	poppenschoenen € 12		
Aanbieding 2	dolfijn € 23	etui € 6		
Aanbieding 3	spellendoos € 28	ping pong batje € 14		
Aanbieding 4	barbie € 21	jurk € 14		
Aanbieding 5	tekenboek € 7	springtouw € 11		
Aanbieding 6	knuffeldier € 13	playmobil € 19		