




Hoe goed is je oriëntatie?

Teken de ster* op de omschreven plaats!

Oplossingen zijn soms een voorbeeld!

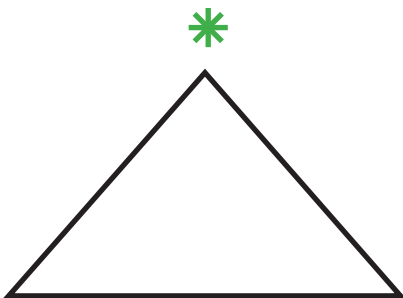
linksboven in de cirkel



linksonder in de rechthoek



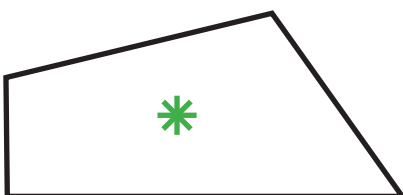
boven de driehoek




tussen de twee lijnen




binnen het vierkant



onder het vierkant



buiten de cirkel




in het midden van de lijn






Hoe goed is je oriëntatie?

Waar is de ster? Omcirkel het juiste antwoord!




binnen de rechthoek

buiten de rechthoek




linksboven

rechtsonder



buiten rechts

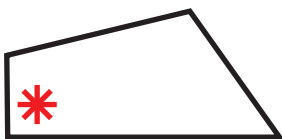
buiten links




in het midden boven

onderaan in het midden

Wat klopt er niet? Streep door!



linksonder



buiten



rechts ernaast



erboven